

ALUNO (A):

Nº

TURMA: 14 ____

Valor: 10,0

DISCIPLINA: HISTÓRIA

TRIMESTRE: 1º



PROFESSOR (A):

DATA: / / 2020

TRABALHO DE HISTÓRIA

Questão 1

Assista o vídeo “Pré-história em 3 minutos” ([youtube.com/watch?v=eA2Tk7koX4U](https://www.youtube.com/watch?v=eA2Tk7koX4U)) para encontrar os 3 períodos em que a Pré-história foi dividida. Depois, marque a resposta que corresponde a sua pesquisa. (1,0 – ponto)



- Pré-História, Idade Média e Idade Moderna.
- Idade Média, Idade Moderna e Paleolítico (Idade da Pedra Lascada).
- Paleolítico (Idade da Pedra Lascada), Neolítico (Idade da Pedra Polida) e Idade dos Metais.

Questão 2

Faça um belo desenho para descrever onde **moravam os hominídeos** e como faziam para **se alimentar**, no início do período Paleolítico. Identifique escrevendo detalhes no desenho. (1,0 – ponto)

➤ Assista o “Desenho Animado Pré-história” ([youtube.com/watch?v=yZGXDn1k](https://www.youtube.com/watch?v=yZGXDn1k)) e responda as questões 3 e 4.

Questão 3

Como você explica a relação da formação das etnias com o clima e a geografia dos continentes. Discorra com detalhes sua resposta. (2,0 – pontos)



Questão 4

No período conhecido por **Idade dos Metais** o homem iniciou o desenvolvimento da arte e da escrita pelos Sumérios e Babilônios, por volta do ano de 4.000 a.C. marcando a passagem da Pré-história para a História.

Pesquise, recorte e cole, 2 imagens de como eram os registros no início da construção da **escrita**, ou seja, no início das **artes rupestres**. (1,0 – ponto)



Questão 5

Assista o vídeo “A vida humana no Paleolítico” ([youtube.com/watch?v=8byJ40N_NnM](https://www.youtube.com/watch?v=8byJ40N_NnM)) e contorne a imagem que retrata a vestimenta do homem no período do Paleolítico. (1,0 – ponto)



Agora, descreva as mudanças existentes nas vestimentas no período da pré-história e da vestimenta nos dias atuais. Não esqueça de comentar sobre como eram e como são feitas.

Questão 6

Quais os benefícios encontrados pelo homem após a descoberta do **fogo** no período da pré-história? Marque um X na resposta correta. (1,0 – ponto)



- (A) Desenvolver instrumentos com pedras e madeiras para a sobrevivência dos grupos humanos.
- (B) O cultivo de plantas e domesticação de animais para o sustento da família.
- (C) Cozinhar os alimentos, variedades na dieta, proteção contra os predadores e o controle da temperatura.

Questão 7

Assista o vídeo **A importância de se ter encontrado o crânio de Luzia nos escombros do Museu Nacional** (<http://ftd.li/f52stm>) e leia a notícia que reforça nossos estudos de sala de aula, para responder à questão abaixo.

Museu Nacional resgata e identifica 80% das partes do crânio de Luzia Fóssil humano mais antigo das Américas tinha se perdido no incêndio do local



“Nesta sexta-feira (19), o **Museu Nacional** anunciou que conseguiu resgatar o crânio de Luzia, o fóssil humano mais antigo das Américas. A peça era uma das mais emblemáticas do acervo brutalmente atingido pelo **incêndio no casarão Quinta da Boa Vista**.

Apesar do crânio ter sido encontrado em fragmentos, segundo os cientistas, a restauração é possível, mas depende do repasse de verba do Governo Federal para reabrir o laboratório do museu. O local é gerido pela UFRJ (Universidade Federal do Rio de Janeiro).

Responsáveis pelo resgate afirmam que o crânio de 12 mil anos foi encontrado nessa semana. Cerca de 80% dos fragmentos de Luzia foram identificados. Em entrevista coletiva, a direção do Museu Nacional comemorou o achado:

— O crânio foi encontrado fragmentado. Já achamos praticamente todo o crânio e 80% dos fragmentos já foram identificados e podemos aumentar esse número — disse Alexander Kellner, diretor do museu.

(<https://gauchazh.clicrbs.com.br/cultura-e-lazer/noticia/2018>)

Por que seria um impacto a **perda de Luzia** para a história da humanidade? (1,8 – pontos)

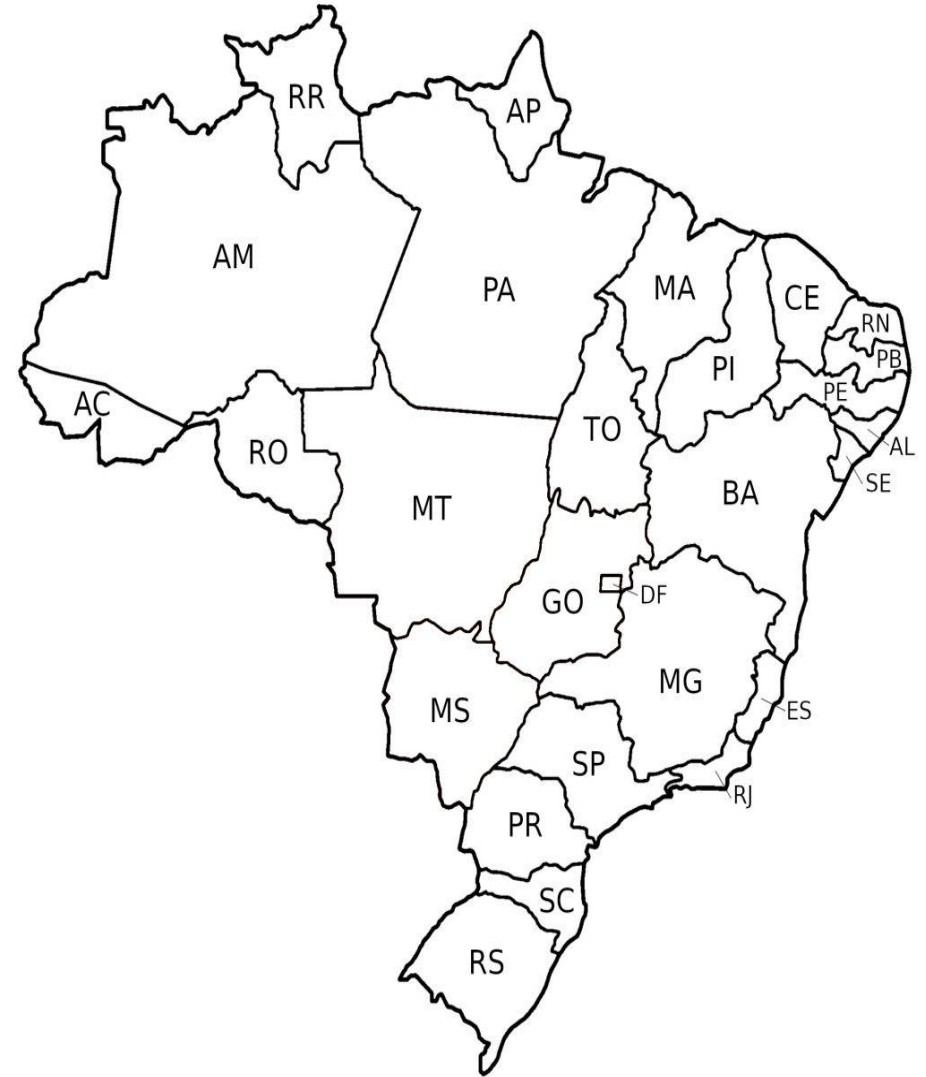
Questão 8

Você sabe o que são sítios arqueológicos?

Sítios arqueológicos são locais onde ficaram preservados testemunhos e evidências de atividades do passado histórico, seja, esse, pré-histórico ou não.

Agora, identifique no mapa os locais onde encontramos **os principais sítios arqueológicos do Brasil**. Pinte obedecendo a legenda abaixo. (1,2 – pontos)

- De **azul** o local onde encontramos o Parque Nacional da Serra da Capivara.
- De **verde** o local onde encontramos o Parque Nacional do Catimbau.
- De **amarelo** o local onde encontramos o Parque Arqueológico do Solstício.
- De **vermelho** o local onde encontramos o Sítio Arqueológico Pedra Pintada.
- De **laranja** o local onde encontramos o Sítio Arqueológico São João Batista.
- De **lilás** o local onde encontramos o Sítio Arqueológico do Lajedo de Soledade.



A evolução é a maior arte do ser humano!!!

